


№1.  \_\_\_\_\_

№2.  \_\_\_\_\_

№3.  \_\_\_\_\_

№4.  \_\_\_\_\_

№5.  \_\_\_\_\_

№6.  \_\_\_\_\_

№7.  \_\_\_\_\_

№8.  \_\_\_\_\_

№9.  \_\_\_\_\_

№10.  \_\_\_\_\_

№11.  \_\_\_\_\_

№12.  \_\_\_\_\_

№13.  \_\_\_\_\_


№14.  \_\_\_\_\_

№15.  \_\_\_\_\_

№16.  \_\_\_\_\_

№17.  \_\_\_\_\_

№18.  \_\_\_\_\_

№19.  \_\_\_\_\_


№20.  \_\_\_\_\_


№21.  \_\_\_\_\_

№22.  \_\_\_\_\_

№23.  \_\_\_\_\_

№25.  \_\_\_\_\_

№26.  \_\_\_\_\_

























№27.  \_\_\_\_\_

№28.

## Задание

Выберите из предложенных дорожных знаков те, которые относятся к группе

1. Запрещающих
2. Предупреждающих
3. Предписывающих
4. Знаки приоритета

1 	2 	3 	4 	5 
6 	7 	8 	9 	10 
11 	12 	13 	14 	15 
16 	17 	18 	19 	20 
21 	22 	23 	24 	25 